



به نام یگانه خالق هستی

شماره دانش آموز :

مدرسه قرآنی شهید آیت ... سعیدی

المپیاد علمی پایه دوم

تاریخ : ۹۲/۱۰/۲۲

وقت آزمون : ۵۰ دقیقه

شعبه :

نام و نام خانوادگی :

قرآن

۱	عبارت « هُوَ الرَّحْمَنُ الرَّحِيمُ » یعنی چه ؟ (۱) خدا بزرگ است (۲) خدا بخشنده و مهربان است (۳) خدا بی نیاز است (۴) خدایی جز الله نیست
۲	حدیث (( تَعَلَّمُوا الْقُرْآنَ - قرآن را بیاموزید )) از کیست ؟ (۱) امام علی (ع) (۲) امام کاظم (ع) (۳) امام رضا (ع) (۴) حضرت محمد (ص)
۳	مُحْسِنِينَ چه کسانی هستند ؟ (۱) نیکوکاران (۲) اسراف کاران (۳) نماز گزاران (۴) خطا کاران
۴	به این علامت ها ( ) چه می گویند ؟ (۱) صداهای بلند (۲) صداهای کوتاه (۳) تنوین (۴) ساکن
۵	معنی آیه قرآنی « اِدْفَعِ بِالَّتِي هِيَ اَحْسَنُ » کدام عبارت است ؟ (۱) خوش اخلاقی (۲) احترام به دیگران (۳) احترام به پدر و مادر (۴) بدی را به خوبی جواب بده

هدیه های آسمان

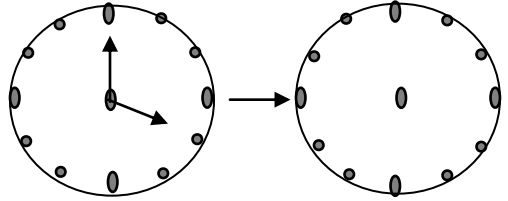
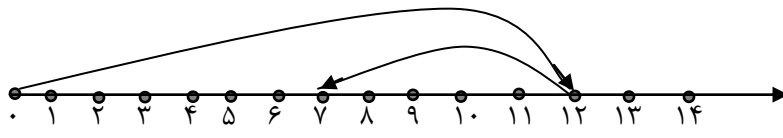
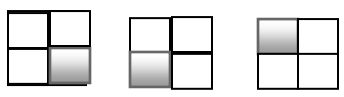




۶	چگونه با خدا حرف می زنیم و از او تشکر می کنیم ؟ (۱) نماز می خوانیم (۲) قرآن می خوانیم (۳) اسراف نمی کنیم (۴) فرمان خدا اطاعت می کنیم
۷	چه کسی نیمه شب برای همسایه ها و دوستانش دعا می کرد ؟ (۱) امام علی (ع) (۲) امام حسین (ع) (۳) حضرت فاطمه (س) (۴) امام حسن (ع)
۸	کدام یک از پیامبران زیر جز پنج پیامبر بزرگ خدا نیست ؟ (۱) حضرت محمد (ص) (۲) حضرت ابراهیم (ع) (۳) حضرت نوح (ع) (۴) حضرت یوسف (ع)
۹	حضرت محمد (صلوات الله علیه و آله) در کجا به دنیا آمد ؟ (۱) مدینه (۲) مکه (۳) سامره (۴) نجف
۱۰	در روز پانزدهم رمضان اولین فرزند امام علی (ع) و حضرت زهرا (س) به دنیا آمد؛ او را ..... نامیدند. (۱) حسین (۲) زینب (۳) حسن (۴) عباس

فارسی

۱۱	کدام گزینه زیر ، سه بخشی است ؟ (۱) باید (۲) برای (۳) تلاش (۴) دوستان
۱۲	کدام دسته از کلمات زیر ، همگی نیاز به تشدید دارند ؟ (۱) دکان - بقال - معلم (۲) بچه - حتما - بقال (۳) لطفا - بچه - اهمیت (۴) معلم - اما - حتما
۱۳	کدام گزینه نادرست است ؟ (۱) بی هنر کسی که هنر ندارد (۲) با ادب کسی که ادب دارد (۳) بی اهمیّت یعنی چیزی که اهمیت دارد (۴) بی حوصله یعنی کسی که حوصله ندارد
۱۴	به آخر کدام کلمه نمی توان (( ای )) اضافه کرد ؟ (۱) ستاره (۲) نامه (۳) مدرسه (۴) کتاب

۱۵	در کدام کلمه شکل «ه ه» با صدای = خوانده می شود؟ (۱) راه (۲) ماه (۳) چاره (۴) کوه
۱۶	در جای خالی ، باید چه کلمه مناسبی قرار دهیم ؟ (( ..... به مدرسه می رود.)) (۱) او (۲) تو (۳) آن (۴) ما
۱۷	در کدام جمله ، کلمه ای که زیر آن خط کشیده شده است با بقیه ی گزینه ها ، هم معنی نیست؟ (۱) ماشین آهسته می رود (۲) کودک آرام گریه می کند (۳) پلنگ سریع حرکت می کند (۴) علی یواش می دود
۱۸	شکل پایانی کدام گزینه صدای (( آ )) می دهد؟ (۱) فوری (۲) صدلی (۳) ساری (۴) موسی
۱۹	همه ی گزینه ها کلمه مشترک دارند به جز ..... (۱) گلزار (۲) بازار (۳) شنزار (۴) کشتزار
۲۰	کدام گزینه نادرست است؟ (۱) به کسی که دارو می سازد دارو ساز می گویند (۲) به کسی که چیزی از آهن می سازد آهنی می گویند.. (۳) به کسی که آهنگ می سازد آهنگ ساز می گویند (۴) به کسی که کفش می دوزد کفّاش می گویند
	علوم
۲۱	برای اندازه گیری دما ، از چه وسیله ای استفاده می کنیم ؟ (۱) دماسنج (۲) ترازو (۳) قطب نما (۴) بادنما
۲۲	چه روزی ، لباس های خیس زود تر خشک می شوند ؟ (۱) روزی که هوا ابری است (۲) روزی که باران می بارد. (۳) روزی که برف می آید (۴) روزی که باد می وزد
۲۳	در ..... هوا سردتر است ، چون خورشید ..... می تابد. (۱) تابستان - مایل (۲) زمستان - مایل (۳) بهار - مستقیم (۴) پاییز - مستقیم
۲۴	..... وسیله ای که جهت باد را نشان می دهد؟ (۱) دماسنج (۲) قطب نما (۳) بادنما (۴) باران سنج
۲۵	به جسمی که از خودش نور بدهد ، چه می گویند؟ (۱) خورشید (۲) چشمه نور (۳) سایه (۴) مهتاب
۲۶	کدام یک از گزینه های زیر ، جز عوامل آلودگی هوا نیست؟ (۱) آتش درست کردن (۲) دود ماشین (۳) درخت کاری (۴) قطع درختان
۲۷	صدای کدام یک برای پیام رسانی استفاده می شود؟ (۱) صدای اذان (۲) صدای هواپیما (۳) صدای باران (۴) صدای موتور
۲۸	کدام دلیل باعث پیدایش شب و روز می شود؟ (۱) چرخش زمین به دور خورشید (۲) چرخش زمین به دور خود (۳) چرخش خورشید به دور زمین (۴) چرخش خورشید به دور خودش
۲۹	آلودگی هوا در چه جاهایی بیشتر است ؟ (۱) روستا ها (۲) کنار دریاها (۳) شهرهای بزرگ (۴) جنگل ها
۳۰	با کدام یک از موارد زیر سایه تشکیل نمی شود؟ (۱) چوب (۲) شیشه شفاف (۳) صدلی (۴) کتاب

ریاضی

۳۱	<p>رضا ۷ ساله است ، خواهرش ۵ سال از او بزرگ تر است ، خواهر رضا چند سال دارد؟</p> <p>(۱) ۱۳ سال      (۲) ۷ سال      (۳) ۱۲ سال      (۴) ۵ سال</p>
۳۲	<p>احمد دیروز ۲ بسته ده تایی کاغذ رنگی خرید ، او با ۷ برگ از کاغذ ها کاردستی درست کرد ، حالا احمد چند کاغذ رنگی دارد؟</p> <p>(۱) ۱۶ کاغذ رنگی      (۲) ۱۵ کاغذ رنگی      (۳) ۱۴ کاغذ رنگی      (۴) ۱۳ کاغذ رنگی</p>
۳۳	<p>در الگوی رو به رو چه عددی قرار می گیرد؟</p> <p>..... - ۱۹ - ۱۵ - ۱۳ - ۹ - ۷ - ۳</p> <p>(۱) ۲۳      (۲) ۲۲      (۳) ۲۱      (۴) ۲۰</p>
۳۴	<p>ساعت ۴ است . یک ساعت و ربع دیگر ساعت چند است؟</p>  <p>(۱) ساعت ۴ و ربع      (۲) ساعت ۴ و نیم      (۳) ساعت ۵ و ربع      (۴) ساعت ۵ و نیم</p>
۳۵	<p>اگر سه دسته ی ده تایی به عدد ۳۲۸ اضافه کنیم ؟ چه عددی به دست می آید؟</p> <p>(۱) ۳۱۸      (۲) ۳۳۸      (۳) ۳۴۸      (۴) ۳۵۸</p>
۳۶	<p>حاصل عبارت رو به رو چه عددی است؟</p> <p><math>۶ + ۱۰ + ۳۰ + ۱۰ - ۵ = \dots\dots\dots</math></p> <p>(۱) ۶۱      (۲) ۶۰      (۳) ۵۱      (۴) ۵۰</p>
۳۷	<p>سعید برای خرید یک مداد تراش ۴۰ ریالی و ۲ پاک کن ۳۰ ریالی ، باید چند ریال به فروشنده بدهد؟</p> <p>(۱) ۷۰ ریال      (۲) ۸۰ ریال      (۳) ۹۰ ریال      (۴) ۱۰۰ ریال</p>
۳۸	<p>با رقم های ( ۳ ، ۶ ، ۸ ) عددی بنویس که رقم یکان آن از رقم دهگانش بیش تر و رقم دهگان آن از رقم صدگانش کم تر باشد</p> <p>(۱) ۳۶۸      (۲) ۸۳۶      (۳) ۳۸۶      (۴) ۸۶۳</p>
۳۹	<p>کدام گزینه مربوط به محور است؟</p>  <p>(۱) <math>۱۲ - ۷</math>      (۲) <math>۱۲ + ۷</math>      (۳) <math>۱۲ + ۵</math>      (۴) <math>۱۲ - ۵</math></p>
۴۰	<p>شکل بعدی الگوی رو به رو کدام است؟</p>  <p>(۱)       (۲)       (۳)       (۴) </p>

موفق و سربلند باشید

